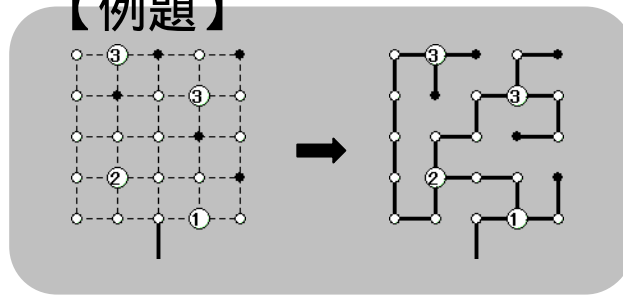


ナンバーブランチ

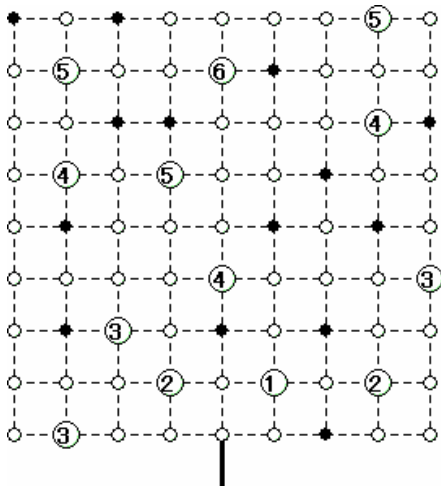
ルール

- 1 : 一番下の根っこからスタートして、全ての頂点を枝でつなく。
- 2 : 数字の入っている所では、枝は二方向に分かれる。
数字は根っこから数えて何回目の分岐点かを表す。
- 3 : 黒丸は枝の末端を表している。

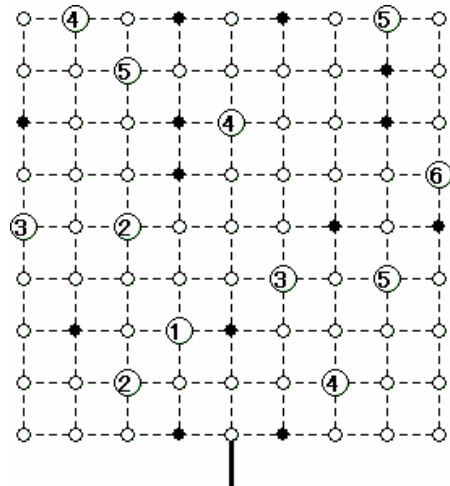
【例題】



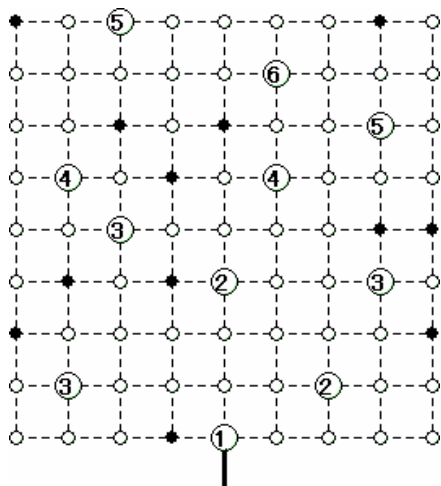
壹



弐



参



肆

