

でこぼこ分割



例題

⇒

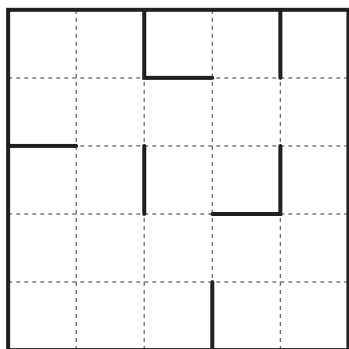
解答

《ルール》

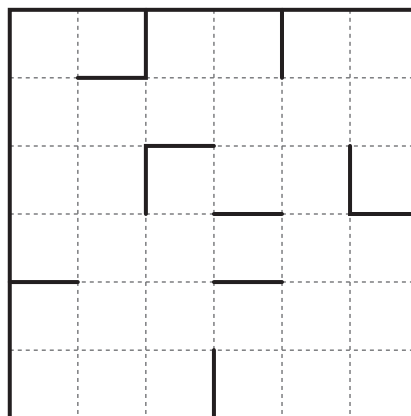
盤面をいくつかの長方形に分割してください。

分割されたどの二つの長方形をペアにしても長方形ができないようにします。

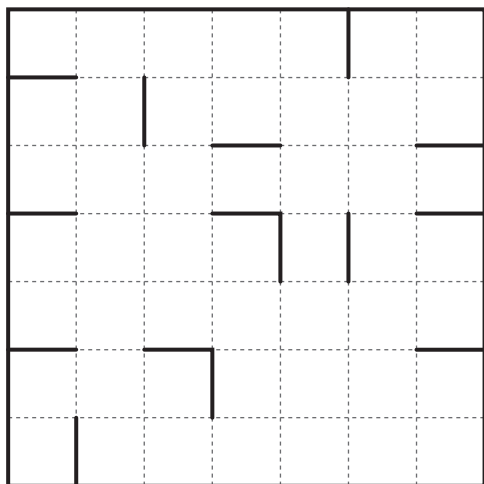
1.



2.



3.



4.

