

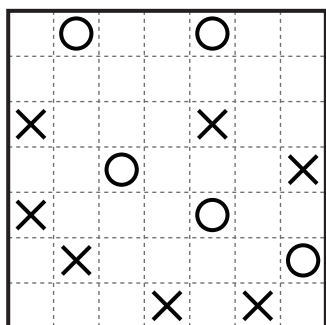
例題

解答

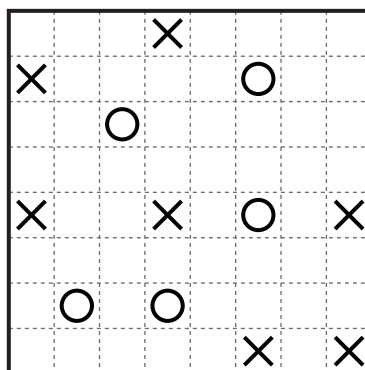
《ルール》

全体がひとつながりになり、ループのない建物の内部を明らかにしてください。  
 ○はT字路、×は行き止まり、何もないところはただの（二方向に壁がある）通路になります。

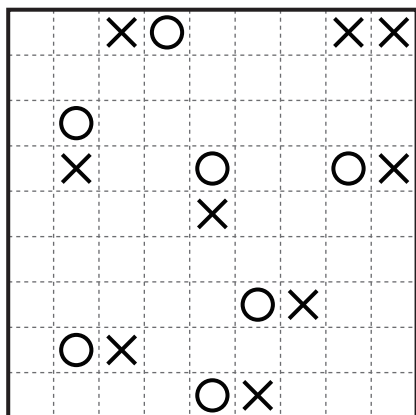
1



2



3



4

